

САМОСТОЯТЕЛНА РАБОТА ПО БЪЛГАРСКИ ЕЗИК ЗА 2. КЛАС

Изходно равнище

I група

Име _____ **Дата:** _____

1. Диктовка

7т.

2. Подреди и запиши думите в азбучен ред:

риба, аквариум, водорасло, пясък

2т.

3. Постави подходящи съществителни и прилагателни имена пред думите. Определете рода и числото на получените словосъчетания.

6т.

добър _____ - _____	слънце - _____
нежна _____ - _____	учебник - _____
весело _____ - _____	тетрадка - _____

4. Раздели думите на части за пренасяне.

7т.

сея - _____	вода - _____
готвя - _____	сок - _____
лудории - _____	
телевизор - _____	

5. **Задраскай невярната буква. Направи проверка.**

6т.

суро $\frac{в}{ф}$ - _____

жа $\frac{б}{п}$ че - _____

ори $\frac{з}{с}$ - _____

с $\frac{о}{у}$ лено - _____

гла $\frac{д}{т}$ - _____

теат $\frac{а}{ь}$ р - _____

6. **Състави съобщително и въпросително изречение по картината.**

2т.



7. **Прочетете текста и отговорете на въпросите към него.**

5т.

Кифлички

Една жена предложила да се погрижи за съседското дете, тъй като родителите му били на работа. За закуска приготвила на момичето голяма порция макарони. То не ги докоснало и казало:

– Мама винаги приготвя за закуска топли кифлички.

За да угоди на детето, жената бързо омесила тесто и неслед дълго поднесла чиния с вкусни топли кифлички.

– Не, благодаря! – казало момичето.

– Но нали за закука майка ти винаги приготвя топли кифлички? – учудила се жената.

– Прави, но аз не ги ям – отговорило детето.

Майката винаги приготвя за закуска:

- А) банички
- Б) кифлички
- В) сандвичи

Момичето е:

- А) мързеливо
- Б) капризно
- В) лакомо

Скала за оценяване:

- 35 т. – 30 т. – отличен
- 29 т. – 21 т. – много добър
- 20 т. – 13 т. – добър
- 12 т. – 7 т. – задоволителен
- под 7 т. – незадоволителен

Брой точки.....

Оценка

Проверил:

Родител:

САМОСТОЯТЕЛНА РАБОТА ПО БЪЛГАРСКИ ЕЗИК ЗА 2. КЛАС

Изходно равнище

II група

Име _____

Дата: _____

1. Диктовка

7т.

2. Подреди и запиши думите в азбучен ред:

книга, автор, библиотека, разказ

2т

3. Постави подходящи съществителни и прилагателни имена пред думите. Определете рода и числото на получените словосъчетания.

6т

хубав _____	– _____	звезда – _____
добра _____	– _____	чин – _____
игриво _____	– _____	момиче – _____

4. Раздели думите на части за пренасяне.

7т

мия – _____	гора – _____
вижда – _____	кос – _____
олелня – _____	
заминават – _____	


5. **Задраскай невярната буква. Направи проверка.**

6т.

стро $\frac{\Gamma}{\text{к}}$ – _____ ро $\frac{\Gamma}{\text{к}}$ че – _____
 адре $\frac{\text{з}}{\text{с}}$ – _____ ч $\frac{\text{а}}{\text{б}}$ совник – _____
 гра $\frac{\text{д}}{\text{т}}$ – _____ крат $\frac{\text{а}}{\text{б}}$ к – _____

6. **Състави съобщително и въпросително изречение по картината.**

2т.



7. **Прочетете текста и отговорете на въпросите към него.**

5т.

Досетлив

Малкият Петър и майка му отишли на пазар. Спрели пред сергията на един търговец. Продавачът предложил на момчето да си вземе шепа череши, но то поклатило глава.

- Какво има? Не обичаш ли череши? – попитал мъжът.
- Обичам – отвърнал Петър.
- Тогава вземай!

Петър отново се поколебал. Тогава търговецът грабнал една голяма шепа череши и ги пуснал в шапката на момчето.

- Защо не си взе череши? – попитала майката, когато се отдалечили.
- Защото неговата шепа е по-голяма от моята – отговорило момчето.

Момчето не взело черешите, защото:

- А) не обича череши
- Б) шепата на търговеца е по-голяма
- В) не взема нищо от непознати

Малкият Петър е:

- А) скомнен
- Б) капризен
- В) досетлив

Скала за оценяване:

- 35 т. – 30 т. – отличен
- 29 т. – 21 т. – много добър
- 20 т. – 13 т. – добър
- 12 т. – 7 т. – задоволителен
- под 7 т. – незадоволителен

Брой точки.....

Оценка

Проверил:

Родител:

Текстът за диктовката и на двете групи е следният:

Моите приятели

Аз съм горд със своите приятели. Всеки от тях е талантлив. Любчо рисува. Той се готви за изложба. Николай е спортист. Той е пръв на дълъг скок. Ваньо е истински актьор. Играе ролята на принца от приказката за Снежанка. Йоана и Радко са чудесни музиканти. Те свирят на китара. Скоро имат концерт и нямат време за почивка.

В диктовката акцентът е върху изучените правописни правила за гласните и съгласните. Правилното писане на неударени гласни и обеззвучени съгласни се оценява само в думите с проверяем правопис.

	Критерии за оценка при диктовката	Брой точки за правилен отговор
1.	Правопис на гласните <i>талантлив, спортист, чудесни, музиканти</i>	2 точки
2.	Правопис на съгласните в средата на думата <i>Любчо, приказката, Радко, почивка</i>	2 точки
3.	Правопис на съгласните в края на думата <i>горд, талантлив, пръв, дълъг</i>	1 точка
4.	Главни букви при собствените имена <i>Любчо, Николай, Ваньо, Снежанка, Йоана, Радко</i>	1 точка
5.	Правилно писане на думи с <i>й, ъ, ѝо</i> <i>Николай, Ваньо, актьор, Йоана</i>	1 точка

САМОСТОЯТЕЛНА РАБОТА ПО МАТЕМАТИКА ЗА 2. КЛАС

Изходно равнище

I група

Име _____ Дата: _____

1. Запиши с цифри числото деветдесет и две и числото след него в редицата на числата. _____ , _____

1г

2. Запиши числата:

2г

а) които са по-малки от 42 и по-големи от 34: _____

б) които са по-големи от 35 и по-малки от 50 и се делят на 6. _____

3. <; >; =

3г

56 39 2 дес.+6ед. 26 6 . 7 42

42 48 90 8 ед.+ 8 дес. 63 51 + 9

4. Пресметни:

12г

а) $40 + 6 =$ _____	б) $60 - 40 =$ _____	в) $3 \cdot 3 =$ _____	г) $8 : 4 =$ _____
$10 + 80 =$ _____	$86 - 5 =$ _____	$9 \cdot 2 =$ _____	$18 : 3 =$ _____
$32 + 4 =$ _____	$99 - 9 =$ _____	$5 \cdot 4 =$ _____	$24 : 6 =$ _____
$46 + 8 =$ _____	$52 - 43 =$ _____	$8 \cdot 6 =$ _____	$35 : 5 =$ _____
$62 + 19 =$ _____	$70 - 18 =$ _____	$10 \cdot 1 =$ _____	$72 : 8 =$ _____
$75 + 25 =$ _____	$100 - 55 =$ _____	$7 \cdot 0 =$ _____	$100 : 10 =$ _____

5. Пресметни:

2г

$54 - 18 : 2 =$ _____ $(43 + 38) : 9 =$ _____

6. Намери неизвестното число:

а/ $8 + \square = 75$

б/ $9 \cdot \square = 63$

4г

$\square =$ _____

$\square =$ _____

$\square =$ _____

$\square =$ _____

7. Ученици засадиха 8 бора и 6 пъти повече липи. Колко дървета засадиха учениците?

3г

Решение: _____

8. Намери обиколката на:

3г

а) правоъгълник със страни 4 дм и 6 дм.

Решение: _____


б) равнобедрен триъгълник с бедро 6 см и основа 12 см.

Решение: _____


в) квадрат със страна 4 м.

Решение: _____

9. Колко е продължил урокът по тенис на Иван?ч. мин.



начало



край

10. <; >; =

35 мин. 53 мин. 20 см 2 дм

7 ч. 7 мин. 1 м 4 дм

2 седмици 7 дни

1 денонощие 12 часа



Скала за оценяване:

Брой точки.....

34 т. – 29 т. – отличен

Оценка

28 т. – 20 т. – много добър

19 т. – 12 т. – добър

Проверил:

11 т. – 7 т. – задоволителен

под 7 т. – незадоволителен

Родител:

САМОСТОЯТЕЛНА РАБОТА ПО МАТЕМАТИКА ЗА 2. КЛАС

Изходно равнище

II група

Име _____ Дата: _____

1. Запиши с цифри числото петдесет и осем и числото след него в редицата на числата. _____ , _____

1г

2. Запиши числата:

2г

а) които са по-малки от 32 и по-големи от 24: _____

б) които са по-големи от 41 и по-малки от 60 и се делят на 6. _____

3. < ; > ; =

3г

45 38 6 дес.+6ед. 36 5 . 7 35

94 49 50 0 ед.+ 5 дес. 84 71 + 9

4. Пресметни:

12г

а) $20 + 8 =$ _____	б) $40 - 30 =$ _____	в) $6 \cdot 3 =$ _____	г) $4 : 4 =$ _____
$30 + 60 =$ _____	$58 - 5 =$ _____	$8 \cdot 2 =$ _____	$15 : 3 =$ _____
$26 + 4 =$ _____	$66 - 6 =$ _____	$4 \cdot 4 =$ _____	$48 : 6 =$ _____
$78 + 9 =$ _____	$71 - 28 =$ _____	$9 \cdot 6 =$ _____	$25 : 5 =$ _____
$52 + 39 =$ _____	$90 - 38 =$ _____	$7 \cdot 1 =$ _____	$64 : 8 =$ _____
$55 + 45 =$ _____	$100 - 22 =$ _____	$5 \cdot 0 =$ _____	$100 : 10 =$ _____

5. Пресметни:

2г

$63 - 18 : 6 =$ _____ $(59 - 38) : 7 =$ _____

6. Намери неизвестното число:

а/ $7 + \square = 65$

б/ $7 \cdot \square = 42$

$\square =$ _____

$\square =$ _____

$\square =$ _____

$\square =$ _____

4г

7. Момчетата от втори клас изработили 9 маски, а момичетата – 5 пъти повече.

Колко са всичките изработени маски?

3г

Решение: _____

8. Намери обиколката на:

3г

а) правоъгълник със страни 5 см и 9 см.

Решение: _____


б) равнобедрен триъгълник с бедро 4 дм и основа 13 дм.

Решение: _____


в) квадрат със страна 8 м.

Решение: _____

9. Колко е продължил урокът по пиано на Ивета?ч. мин.



начало



край

10. <; >; =

65 мин. 56 мин. 60 см 6 дм

8 ч. 8 мин. 2 м 8 дм

2 седмици 2 дни

1 денонощие 24 часа



Скала за оценяване:

Брой точки.....

34 т. – 29 т. – отличен

Оценка

28 т. – 20 т. – много добър

19 т. – 12 т. – добър

Проверил:

11 т. – 7 т. – задоволителен

под 7 т. – незадоволителен

Родител:

САМОСТОЯТЕЛНА РАБОТА ПО ОКОЛЕН СВЯТ ЗА 2. КЛАС

Изходно равнище

I група

Име _____

Дата: _____

1. Отбележи с ✓ вярно или невярно е всяко твърдение.

3г

Твърдение	Вярно	Невярно
Учениците имат свои права и задължения в училище и вкъщи.		
Задължение на ученика е да се съгласява с всичко, което казват съучениците му.		
Учтивите думи „благодаря“, „извинете“, „ако обичаш“ използваме всеки ден вкъщи и в клас.		

2. Огради буквата пред верния отговор.

1г

В родното селище на Лили има голямо училище, красиво читалище и малка поща. Тези места се наричат:

- А) обществени сгради
- Б) забележителности
- В) исторически паметници

3. Допълни пропуснатото в изреченията.

5г

Човекът е част от

Между и природа съществува връзка.

Земята обикаля около Слънцето за

При обикалянето на Земята около Слънцето се редуват

Дните, и месеците се подредват в годишен

4. Отбележи с ✓ само диворастящите растения.

3г

шипка зеле грах бреза глухарче праскова

5. Отбележи с ✓ само тези растения, които са дървета.

3г

слива чимшир роза акация върба теменужка

6. Подреди наименованията на животните в таблицата.

3г

папагал, мечка, крава

Домашно животно	Диво животно	Домашен любимец
.....

7. На коя илюстрация е изобразено бедствие и на коя – злополука? Запиши.

2г



8. Растения, които живеят и се развиват без специални грижи, са:

1г

- а) диворастящи
- б) стайни
- в) зеленчукови

9. На кой ред има храна само от животински произход ?

1г

- а) кюфтета,маслини,кроасан
- б) ябълка,морков ,краставица
- в) мляко,яйца,пържола

10. Очите, ушите, носът, езикът и кожата са:

1г

- а) части на тялото
- б) сетивни органи
- в) органи за дишане

11. Кравите и козите отглеждаме, защото ни дават:

1г

- а) вълна, месо и мляко
- б) месо и яйца
- в) месо, мляко и кожи

12. Датата на Националния празник на РБългария е ...

1г

- А) 24. май Б) 3. март В) 25. декември

Скала за оценяване:

25 т. – 21 т. – отличен
20 т. – 16 т. – много добър
15 т. – 11 т. – добър
10 т. – 7 т. – задоволителен
под 7 т. – незадоволителен

Брой точки.....

Оценка

Проверил:

Родител:

САМОСТОЯТЕЛНА РАБОТА ПО ОКОЛЕН СВЯТ ЗА 2. КЛАС

Изходно равнище

II група

Име _____ Дата: _____

1. Отбележи с ✓ вярно или невярно е всяко твърдение.

3т

Твърдение	Вярно	Невярно
В училището учениците спазват правила и имат свои задължения.		
Само отличните ученици в училище имат права.		
Учтивите думи „моля“ и „ако обичаш“ използваме само когато общуваме с непознати.		

2. В родното селище на Виктор има красива стара чешма на площада. На нея има табела кога и от кого е построена. До нея се намира музеят. Тези места се наричат:

1т

- А) обществени сгради
- Б) забележителности
- в) исторически паметници

3. Допълни пропуснатото в изреченията.

5т

Водата е част от
Живата природа не може да съществува без природа.
Земята се завърта около себе си за
При въртенето на Земята около себе си се редуват и
В годината има месеца.

4. Отбележи с ✓ само градинските растения.

3т

шипка фикус тиква домати глухарче праскова

5. Отбележи с ✓ само тези растения, които са храсти.

3т

слива чимшир роза глухарче дрян теменужка

6. Подреди наименованията на животните в таблицата.

3т

хамстер, сърна, кокошка

Домашно животно	Диво животно	Домашен любимец
.....

7. На коя илюстрация е изобразено бедствие и на коя – злополука? Запиши.

2г



8. Животни, които живеят и се развиват без специални грижи, са:

1г

- а) диви
- б) селскостопански
- в) домашни любимци

9. На кой ред има храна само от растителен произход ?

1г

- а) кюфтета,маслини,кроасан
- б) ябълка,морков ,краставица
- в) мляко,яйца,пържола

10. Очите, ушите, носът, езикът и кожата са:

1г

- а) сетивни органи
- б) части на тялото
- в) органи за дишане

10. Кокошките отглеждаме, защото ни дават:

1г

- а) вълна, месо и мляко
- б) месо и яйца
- в) месо, мляко и кожи

11. Денят на българската просвета и култура и на славянската писменост отбелязваме на:

1г

А) 24. май

Б) 3. март

В) 1. ноември

Скала за оценяване:

Брой точки.....

25 т. – 21 т. – отличен

Оценка

20 т. – 16 т. – много добър

15 т. – 11 т. – добър

10 т. – 7 т. – задоволителен

под 7 т. – незадоволителен

Проверил:

Родител: