

Къде е ходил през лятната ваканция Петьо?

- А) на гости при баба си
- Б) на море
- В) на гости при баба си и на море

Знае ли Петьо как се пише думата Бургас?

- А) Знае.
- Б) Срамува се да каже.
- В) Не знае.

3. На коя дума е звуковият модел?



- А) агне
- Б) елен
- В) слон



4. На кой ред изречението е написано правилно?

- А) катя рисува ваза.
- Б) Катя рисува ваза
- В) Катя рисува ваза.



5. Коя от думите НЕ се пренася?

- А) стол
- Б) бюро
- В) дъска



6. Коя е липсващата дума в изречението?

Духа ветрец.

- А) бурен
- Б) силен
- В) лек



Скала за оценяване:

- 16 т. – 15 т. – отличен
- 14 т. – 12 т. – много добър
- 11 т. – 8 т. – добър
- 7 т. – 5 т. – задоволителен
- Под 5 т. – незадоволителен

Брой точки.....

Оценка

Проверил:

Родител:

Какво видял Петър в двора на съседа си?

- А) огромен червен домати
- Б) голяма червена чушка
- В) сочна червена ябълка

Какво е момчето?

- А) работливо
- Б) глупаво
- В) хитро

3. На коя дума е звуковият модел?



- А) орех
- Б) елха
- В) море



4. На кой ред изречението е написано правилно?

- А) какво рисува Катя.
- Б) Какво рисува Катя?
- В) Какво рисува Катя.



5. Коя от думите НЕ се пренася?

- А) гума
- Б) четка
- В) блок



6. Коя е липсващата дума в изречението?

Вали дъждец.

- А) пороен
- Б) ситен
- В) проливен



Скала за оценяване:

- 16 т. – 15 т. – отличен
- 14 т. – 12 т. – много добър
- 11 т. – 8 т. – добър
- 7 т. – 5 т. – задоволителен
- Под 5 т. – незадоволителен

Брой точки.....

Оценка

Проверил:

Родител:

Текст за диктовка

На цирк

Чува се весел смях. На какво се радват хората? Котка свири на китара. Мишки играят балет. Фокусник покрива цвете с шапка. Хвърля златен прах и вади бяло зайче. Как ли се случи това? Има и смешник. Казва се Коко. Разбрахте ли вече? Ние сме на цирк.

Текст за диктовка

И животните се мият

Моята котка се казва Йоли. Когато се събуди, тя се прозява и протяга. Изплезва език и започва да се ближе. С езика си достига всички части на своето тяло. Само главата си чисти с предни крака.

След като почисти себе си, котката ближе своите котенца.

САМОСТОЯТЕЛНА РАБОТА ПО МАТЕМАТИКА ЗА 2. КЛАС

Входно равнище

I група

Име _____ Дата: _____

1. Продължете числовите редици:

____, 11, ____, 13, ____, ____, ____, 17, ____, ____, 20



____, 30, ____, ____, 60, ____, ____, ____, 100

2. Определете броя на ед. и дес. в числата:



15 = ____ дес. + ____ ед.

70 = ____ дес. + ____ ед.

1 дес. + 9 ед. = _____

1 дес. + 0 ед. = _____

3. Пресметнете:



$12 + 6 = \underline{\quad}$

$12 - 6 = \underline{\quad}$

$50 + 30 = \underline{\quad}$

$9 + 7 = \underline{\quad}$

$20 - 14 = \underline{\quad}$

$20 + 40 = \underline{\quad}$

$7 + 8 = \underline{\quad}$

$20 - 9 = \underline{\quad}$

$80 - 20 = \underline{\quad}$

$6 + 14 = \underline{\quad}$

$16 - 8 = \underline{\quad}$

$100 - 30 = \underline{\quad}$

4. Поставете знаците „< = > „



$18 \square 8$

$14 \square 13$

$20 \square 12$

$40 \square 70$

5. Намерете неизвестното число:



$\square + 3 = 18$

$9 + \square = 14$

$9 - \square = 5$

$\square - 5 = 5$

6. Едното събираемо е 13, а другото 7. На колко е равен сборът?



.....

7. Начертай отсечка с дължина 3 см. Начертай втора отсечка с 3 см по-дълга от първата.



|-----

|-----

8. Във втори клас има 12 момчета и с 3 по-малко момичета.

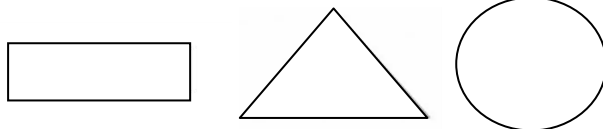
Колко са момичетата във втори клас?



.....

9. Оцветете:

- триъгълника в червено,
- правоъгълника в зелено
- кръга в жълто.



Скала за оценяване:

32 т. – 29 т. – отличен
28 т. – 25 т. – много добър
24 т. – 19 т. – добър
18 т. – 14 т. – задоволителен
Под 14 т. – незадоволителен

Брой точки.....

Оценка

Проверил:

Родител:

САМОСТОЯТЕЛНА РАБОТА ПО МАТЕМАТИКА ЗА 2. КЛАС

Входно равнище

II група

Име _____ Дата: _____

2. Продължете числовите редици:

10, ____, ____, ____, 14, ____, ____, ____, 18, ____, 20



____, ____, 40, ____, ____, 70, ____, 90, ____

2. Определете броя на ед. и дес. в числата:



12 = ____ дес. + ____ ед.

50 = ____ дес. + ____ ед.

1 дес. + 6 ед. = _____

2 дес. + 0 ед. = _____

3. Пресметнете:



$11 + 8 = \underline{\quad}$

$11 - 8 = \underline{\quad}$

$30 + 30 = \underline{\quad}$

$7 + 9 = \underline{\quad}$

$20 - 17 = \underline{\quad}$

$40 + 50 = \underline{\quad}$

$5 + 8 = \underline{\quad}$

$20 - 8 = \underline{\quad}$

$90 - 60 = \underline{\quad}$

$3 + 13 = \underline{\quad}$

$15 - 9 = \underline{\quad}$

$100 - 20 = \underline{\quad}$

4. Поставете знаците „< = > „



$14 \square 4$

$16 \square 17$

$13 \square 20$

$50 \square 60$

5. Намерете неизвестното число:



$\square + 4 = 18$

$9 + \square = 16$

$8 - \square = 5$

$\square - 5 = 5$

6. Едното събираемо е 8, а другото 12. На колко е равен сборът?



.....

7. Начертайте отсечка с дължина 4 см. Начертай втора отсечка с 3 см по-дълга от първата.



|-----

|-----

8. Във втори клас има 13 момчета и с 3 повече момичета.

Колко са момичетата във втори клас?

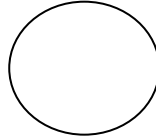
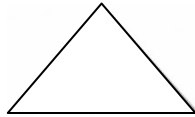

2т.

.....

9. Оцветете:

- триъгълника в зелено,
- правоъгълника в жълто
- кръга в червено.

2т.



Скала за оценяване:

32 т. – 29 т. – отличен
28 т. – 25 т. – много добър
24 т. – 19 т. – добър
18 т. – 14 т. – задоволителен
Под 14 т. – незадоволителен

Брой точки.....

Оценка

Проверил:

Родител:

САМОСТОЯТЕЛНА РАБОТА ПО ОКОЛЕН СВЯТ ЗА 2. КЛАС

Входно равнище

I група

Име _____ Дата: _____

1. Аз се казвам

Живея в град

Моята родина е

Уча в

4т.

2. Кой къде работи. Свържи.

професия	месторабота
учител	театър
актьор	ресторант
готвач	училище
лекар	болница
фермер	ферма

5т.

3. Кои птици зимуват в страната ни? Огради.

щъркел, врана, кълвач, лястовица, врабче, гълъб

4т.

4. Попълни пропуснатия сезон.

а/ През.....е студено и вали сняг.

б/ Слънцето грее най-силно през.....

в/ Дърветата цъфтят през.....

г/ През.....окапват листата на дърветата.

4т.

5. Довърши всеки ред с подходящото животно. Посочи със стрелки. /3т./

А) таралеж, лисица, сърна _____

Б) кокошка, крава, коза _____

2т.

6. Огради вярното:

Получаваме мляко от: овцата, прасето, кравата, кокошката, козата.

Получаваме вълна от: кравата, овцата, прасето, козата.

Отглеждаме кокошката заради: месото, млякото, вълната, яйцата.

7т.

7. Запиши какво е растението според стъблото.

3т.








8. Кои са частите на растението? Запиши.

5т.



1. _____

2. _____

3. _____

4. _____

5. _____

6. Кога честваме националния празник на България?

1т.

а) 24 май

б) 1 януари

в) 3 март

Скала за оценяване:

- 35 т. – 30 т. – отличен
- 29 т. – 24 т. – много добър
- 23 т. – 18 т. – добър
- 17 т. – 12 т. – задоволителен
- под 11 т. – незадоволителен

Брой точки.....

Оценка

Проверил:

Родител:

САМОСТОЯТЕЛНА РАБОТА ПО ОКОЛЕН СВЯТ ЗА 2. КЛАС

Входно равнище

II група

Име _____ Дата: _____

1. Аз се казвам

Живея в град

Моята родина е

Уча в

4т.

2. Кой къде работи. Свържи.

5т.

професия	месторабота
лекар	театър
фермер	ресторант
готвач	училище
учител	болница
актьор	ферма

3. Кои птици зимуват в страната ни? Огради.

лястовица, щъркел, кълвач, врабче, гълъб, врана;

4т.

4. Попълни пропуснатия сезон.

а/ Дърветата цъфтят през.....

б/ Слънцето грее най-силно през.....

в/ През.....е студено и вали сняг.

г/ През.....окапват листата на дърветата.

4т.

5. Довърши всеки ред с едно подходящото животно.

А) мечка, вълк, лисица _____

Б) овца, кокошка, магаре _____

2т.

6. Огради вярното:

Получаваме мляко от: овцата, прасето, кравата, кокошката, козата.

Получаваме вълна от: кравата, овцата, прасето, козата.

Отглеждаме кокошката заради: месото, млякото, вълната, яйцата.

7т.

7. Запиши какво е растението според стъблото.

3т.








8. Кои са частите на растението? Запиши.

5т.



1. _____
2. _____
3. _____
4. _____
5. _____

6. Кога честваме националния празник на България?

1т.

а) 24 май

б) 3 март

в) 1 ноември

Скала за оценяване:

35 т. – 30 т. – отличен
29 т. – 24 т. – много добър
23 т. – 18 т. – добър
17 т. – 12 т. – задоволителен
под 11 т. – незадоволителен

Брой точки.....

Оценка

Проверил:

Родител: